

SSC GD MODEL PRACTICE SET -01



SSC Constable (GD) Exam

CRPF , CISF , BSF , SSB , NIA , ITBP , SSF and Assam Rifles

फ्री ऑनलाइन मॉक टेस्ट सीरीज के लिए यहां क्लिक करें
Click Here For Free online Mock Test Series

PART – A

GENERAL INTELLIGENCE & REASONING

सामान्य बुद्धिमत्ता और तर्कशक्ति

Directions /दिशा-निर्देश (1-2): In each of the following questions select the related letters/ word/ number from the given alternatives. / निम्नलिखित प्रत्येक प्रश्न में दिए गए विकल्पों में से संबंधित अक्षर/शब्द/संख्या को चुनिए।

1. AGMS: CIUO:: DJPV:?

- A. BHNY
- B. STUV
- C. FLRX
- D. MNOP

Answer / उत्तर :- FLRX

2. 85: 42:: 139:?

- A. 68
- B. 69
- C. 70
- D. 67

Answer / उत्तर :- 69

Directions /दिशा-निर्देश : In each of the following questions find the odd number from the given alternatives. / निम्नलिखित प्रत्येक प्रश्न में दिए गए विकल्पों में से विषम संख्या ज्ञात कीजिए।

3.

- A. 80 – 9
- B. 64 – 8
- C. 36 – 6
- D. 7 – 49

Answer / उत्तर :- 80 – 9

Directions /दिशा-निर्देश (4-5): In each of the following questions a series is given with one term missing. Choose the correct alternative from the given ones that will complete the series / निम्नलिखित प्रत्येक प्रश्न में एक श्रृंखला दी गई है जिसमें एक पद लुप्त है। दिए गए विकल्पों में से वह सही विकल्प चुनिए जो श्रृंखला को पूरा करे

4. ASY, BRX, CQW, __?__

- A. DVP
- B. DPV
- C. PDV
- D. PQD

Answer / उत्तर :- DPV

5. 56, 42, 30, 20, ___?___, 6

- A. 15
- B. 12
- C. 18
- D. 14

Answer / उत्तर :- 12

6. Substitute the correct mathematical symbols in place of * in the following equation / निम्नलिखित समीकरण में * के स्थान पर सही गणितीय चिन्हों को रखिए:

$$16 * 4 * 5 * 14 * 6$$

- A. $\div - = \times$
- B. $- \times + =$
- C. $\div \times = +$
- D. $\div + = -$

Answer / उत्तर :- $\div \times = +$

7. Find out the missing number / लुप्त संख्या ज्ञात कीजिए।

8	9	9
6	7	8
9	11	?
39	52	59

- A. 10
- B. 11
- C. 12
- D. 13

Answer / उत्तर :- 13

8. Find out the wrong number from the given series. / दी गई श्रंखला में से गलत संख्या ज्ञात कीजिए।

5, 27, 61, 122, 213, 340, 509

- A. 27
- B. 61
- C. 122
- D. 509

Answer / उत्तर :- 27

9. If / यदि $2 \times 2 = 16$, $2 \times 3 = 36$, $2 \times 4 = 64$, then / तब $2 \times 6 = ?$

- A. 72
- B. 80
- C. 96
- D. 144

Answer / उत्तर :- 144

10. In the following series, the equations are solved on the basis of a certain system. Find out the correct answer for the unsolved equation on that basis.

/निम्नलिखित श्रृंखला में, एक निश्चित प्रणाली के आधार पर समीकरणों को हल किया जाता है। उस आधार पर अनसुलझे समीकरण का सही उत्तर ज्ञात कीजिए।

$$9 \times 8 \times 6 = 896;$$

$$7 \times 6 \times 8 = 678;$$

$$8 \times 7 \times 5 = ?$$

- A. 875
- B. 785
- C. 578
- D. 758

Answer / उत्तर :- 785

11. If 'x' means '-', '-' means 'x', '+' means '÷' and '÷' means '+', then /यदि 'x' का अर्थ '-', '-' का अर्थ 'x', '+' का अर्थ '÷' और '÷' का अर्थ '+' है, तो

$$(15 - 10) \div (130 + 10) \times 50 = ?$$

- A. 1800
- B. 113
- C. 2000
- D. 123

Answer / उत्तर :- 113

12. If the letters in 'PRABA' are coded as 27595 and 'THILAK' are coded 368451, how can 'BHARATHI' be coded ? / यदि 'PRABA' के अक्षरों को 27595 और 'THILAK' को 368451 के रूप में कोडित किया जाता है, तो 'BHARATHI' को कैसे कोडित किया जा सकता है?

- A. 96575368
- B. 57686535
- C. 96855368
- D. 37536689

Answer / उत्तर :- 96575368

13. A father tells his son, "I was three times of your present age when you were born." If the father's present age is 48 years, how old was the boy 4 years ago ? / एक पिता अपने बेटे से कहता है, "जब आप पैदा हुए थे तब मैं आपकी वर्तमान उम्र का तीन गुना था।" यदि पिता की वर्तमान आयु 48 वर्ष है, तो 4 वर्ष पहले लड़के की आयु कितनी थी ?

- A. 24 years /वर्षों
- B. 8 years /वर्षों
- C. 12 years / वर्षों
- D. 16 years /वर्षों

Answer / उत्तर :- 8 years /वर्षों

14. A and B are brother and sister respectively. C is A's father, D is C's sister and E is D's mother. How is B related to E ? /A और B क्रमशः भाई और बहन हैं। C, A का पिता है, D, C की बहन है और E, D की माता है। B, E से किस प्रकार संबंधित है ?

- A. Grand-daughter / पोती
- B. Great-grand-daughter /पर - पोती
- C. Aunt /चाची
- D. Daughter /बेटी

Answer / उत्तर :- Grand-daughter / पोती

15. Four persons M, N, O and P are playing cards. M is on the right of N and P is on the left of O. Then which of the following are partners ? / चार व्यक्ति M, N, O और P ताश खेल रहे हैं। M, N के दायीं ओर है और P, O के बायीं ओर है। तो निम्नलिखित में से कौन सा भागीदार है ?

- A. P and O
- B. M and P
- C. M and N
- D. N and P

Answer / उत्तर :- N and P

16. If 'EDITION' is written as 'IDETNOI' how is 'MEDICAL' written in that code ? / यदि 'EDITION' को 'IDETNOI' लिखा जाता है, तो उसी कोड में 'MEDICAL' कैसे लिखा जाएगा?

- A. DEMILAC
- B. LACIMED
- C. DIEMCAL
- D. CADILEM

Answer / उत्तर :- DEMILAC

Directions / निर्देश :- Two statements are given followed by two conclusions I and II. You have to consider the two statements to be true even if they seem to be at variance from commonly known facts. You have to decide which of the given conclusions, if any, follow from the given statements. / दो कथनों के बाद दो निष्कर्ष I और II दिए गए हैं। आपको दोनों कथनों को सत्य मानना है, भले ही वे सर्वज्ञात तथ्यों से भिन्न प्रतीत होते हों। आपको यह तय करना है कि दिए गए निष्कर्षों में से कौन सा निष्कर्ष, यदि कोई है, दिए गए कथनों का अनुसरण करता है।

17.

Statements / कथन :-

- 1. All English movies are violent. / सभी अंग्रेजी फिल्में हिंसक होती हैं।
- 2. Some people like watching English movies. / कुछ लोग अंग्रेजी फिल्में देखना पसंद करते हैं।

Conclusions / निष्कर्ष

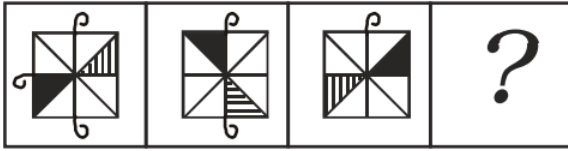
- 1. All people watching English movies like violence / अंग्रेजी फिल्में देखने वाले सभी लोग हिंसा पसंद करते हैं
- 2. All people who like violence watch English movies. / हिंसा पसंद करने वाले सभी लोग अंग्रेजी फिल्में देखते हैं।
- A. Only 1 follows /केवल 1 अनुसरण करता है
- B. Only 2 follows /केवल 2 अनुसरण करता है
- C. Neither 1 nor 2 follows / न तो 1 और न ही 2 अनुसरण करता है
- D. Both 1 and 2 follow /1 और 2 दोनों अनुसरण करते हैं

Answer / उत्तर :- Only 1 follows /केवल 1 अनुसरण करता है

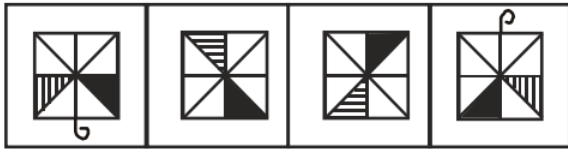
Directions /निर्देश:- Select the missing figure from the given response. / दिए गए उत्तर में से लुप्त आकृति का चयन कीजिए।

18.

Question Figures : / प्रश्न आकृति



Answer Figures: / उत्तर आकृति



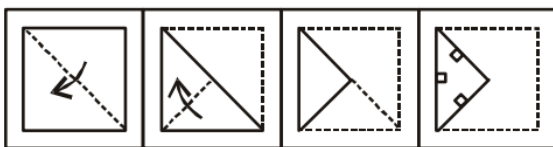
(1) (2) (3) (4)

- A. 1
- B. 2
- C. 3
- D. 4

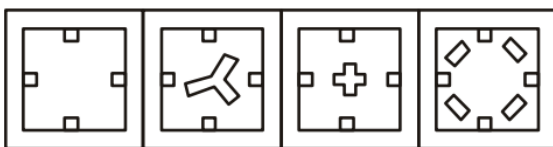
Answer / उत्तर :- B

19. A paper is folded and cut as shown in the given question figures. When opened which of the four answer figures will it resemble ? / एक कागज को मोड़ा और काटा जाता है जैसा कि दिए गए प्रश्न आकृतियों में दिखाया गया है। खोले जाने पर यह चार उत्तर आकृतियों में से किस से मिलती जुलती होगी?

Question Figures / प्रश्न आकृति



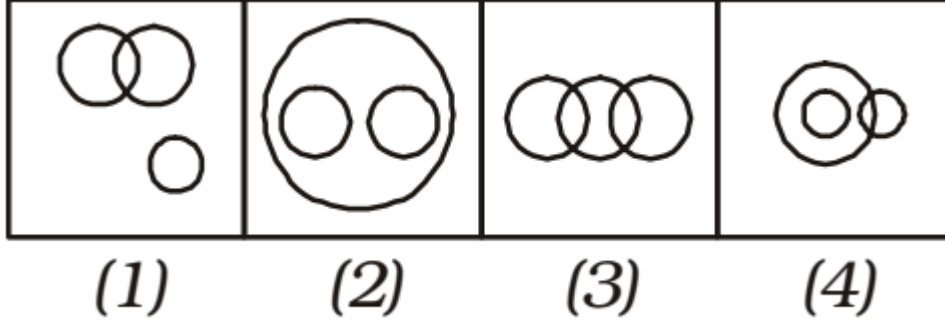
Answer Figures / उत्तर आकृति



(1) (2) (3) (4)

Answer / उत्तर :- 3

20. Which of the following figures represents the relationship between Building material, Cement and Wood ? /निम्नलिखित में से कौन सी आकृति निर्माण सामग्री, सीमेंट और लकड़ी के बीच संबंध को दर्शाती है?



- A. 1
- B. 2
- C. 3
- D. 4

Answer / उत्तर :- B

PART – B

GENERAL KNOWLEDGE & GENERAL AWARENESS

सामान्य ज्ञान और सामान्य जागरूकता

21. _____ caves are a network of sculpted caves located in Mumbai Harbour. / .
_____ कौन सा गुफाएं मुंबई हार्बर में स्थित शिल्प गुफाओं का एक नेटवर्क है।

- A. Ajanta / अजंता
- B. Ellora / एलोरा
- C. Elephanta / एलीफेंटा
- D. Badami / बादामी

Answer / उत्तर :- Elephanta / एलीफेंटा

22. National Film Awards has been administered since _____. / राष्ट्रीय फिल्म पुरस्कार _____ से प्रारंभ किए गए हैं

- A. 1973
- B. 1980
- C. 1987
- D. 1994

Answer / उत्तर :- 1973

23. In which form is glucose stored in our body ? / हमारे शरीर में ग्लूकोज किस रूप में संचित होता है?

- A. Insulin / इंसुलिन
- B. Glucose / शर्करा
- C. Glycogen / ग्लाइकोजन
- D. Fat / वसा

Answer / उत्तर :- Glycogen / ग्लाइकोजन

24. Where do plants synthesize protein from ? / पौधे प्रोटीन का संश्लेषण कहाँ से करते हैं ?

- A. Fatty Acids / वसायुक्त अम्ल
- B. Sugar / चीनी या शक्कर
- C. Amino Acids / अमीनो अम्ल
- D. Starch / स्टार्च

Answer / उत्तर :- Amino Acids / अमीनो अम्ल

25. Which part of the brain is responsible for triggering actions like thinking, intelligence, memory and ability to learn? /दिमाग का कौन सा हिस्सा सोचने, बुद्धिमानी, स्मृति और सीखने की क्षमता जैसी क्रियाओं को प्रेरित करने के लिए जिम्मेदार है?

- A. Diencephalon / डाइएन्सेफलॉन
- B. Hypothalamus / हाइपोथैलेमस
- C. Cerebrum / सेरब्रम
- D. Control / नियंत्रण

Answer / उत्तर :- Cerebrum / सेरब्रम

26. Which of the following elements has the lowest melting point ? / निम्नलिखित में से किस तत्व का गलनांक सबसे कम है?

- A. Sodium /सोडियम
- B. Tin /टिन
- C. Radon / रेडोन
- D. Radium / रेडियम

Answer / उत्तर :- Radon / रेडोन

27. Atomic number of which of the following elements is greater than that of Fluorine ? / निम्नलिखित में से किस तत्व की परमाणु संख्या फ्लोरीन की परमाणु संख्या से अधिक है?

- A. Sodium / सोडियम
- B. Beryllium / बीरियम
- C. Nitrogen / नाइट्रोजन
- D. Boron / बोरान

Answer / उत्तर :- Sodium / सोडियम

28. Convert decimal number 106 to binary. /दशमलव संख्या 106 को बाइनरी में बदलें।

- A. 1101000
- B. 1101010
- C. 1100110
- D. 1110000

Answer / उत्तर :- 1101010

29. Bihu is a folk dance of which state ? /बिहू किस राज्य का लोक नृत्य है?

- A. Assam / असम
- B. Maharashtra / महाराष्ट्र
- C. Odisha / उड़ीसा
- D. Uttarakhand / उत्तराखंड

Answer / उत्तर :- Assam / असम

30. Government borrowing to finance budget deficits _____. / बजट घाटे को वित्तपोषित करने के लिए सरकार उधार ले रही है, इसका क्या असर होगा _____।

- A. will exert downward pressure on interest rates / ब्याज दरों पर नीचे का दबाव डालेगा
- B. will have no effect on interest rates / ब्याज दरों पर नहीं पड़ेगा असर
- C. will increase supply of loanable funds / ऋण योग्य धन की आपूर्ति में वृद्धि करेगा
- D. will put upward pressure on interest rates / ब्याज दरों पर बढ़ेगा दबाव

Answer / उत्तर :- will put upward pressure on interest rates / ब्याज दरों पर बढ़ेगा दबाव

31. Bandhavgarh National Park is in which state ? / बांधवगढ़ राष्ट्रीय उद्यान किस राज्य में है?

- A. Rajasthan / राजस्थान
- B. Chhattisgarh / छत्तीसगढ़
- C. Uttar Pradesh / उत्तर प्रदेश
- D. Madhya Pradesh / मध्य प्रदेश

Answer / उत्तर :- Madhya Pradesh / मध्य प्रदेश

32. How many steps are there in Surya namaskar ? / सूर्य नमस्कार में कितने चरण होते हैं?

- A. 24
- B. 12
- C. 6
- D. 3

Answer / उत्तर :- 12

33. The Renaissance is a period in Europe, from the _____. / यूरोप में पुनर्जागरण की अवधि _____ है।

- A. 18th to the 20th century / 18वीं से 20वीं सदी
- B. 14th to the 17th century / 14वीं से 17वीं सदी
- C. 11th to the 13th century / 11वीं से 13वीं सदी
- D. 7th to the 10th century / 7वीं से 10वीं सदी

Answer / उत्तर :- 14th to the 17th century / 14वीं से 17वीं सदी

34. Aurangzeb (1658–1707 AD) was the ruler of which dynasty ? /औरंगजेब (1658-1707 ई.) किस वंश का शासक था?

- A. Nanda / नंदा
- B. Mughal / मुगल
- C. Maurya / मौर्य
- D. Haryanka / हर्यका

Answer / उत्तर :- Mughal / मुगल

35. Who invented the contact lens ? /कॉन्टैक्ट लेंस का आविष्कार किसने किया ?

- A. Enrico Fermi / एनरिको फर्मी
- B. Adolf Gaston Eugen Fick / एडॉल्फ गैस्टन यूजेन फिक
- C. Sandford Fleming / सैंडफोर्ड फ्लेमिंग
- D. Benoit Fourneyron / बेनोइट फोरनेरॉन

Answer / उत्तर :- Adolf Gaston Eugen Fick / एडॉल्फ गैस्टन यूजेन फिक

36. Electrons move around the nucleus in _____ motion. / इलेक्ट्रॉन _____ गति में नाभिक के चारों ओर घूमते हैं।

- A. translatory / रूपांतरित
- B. spin / स्पिन
- C. orbital / कक्षीय
- D. vibrational / कंपन

Answer / उत्तर :- orbital / कक्षीय

37. Blood pressure is measured by _____. / रक्तचाप _____ द्वारा मापा जाता है।

- A. Barometer / बैरोमीटर
- B. Sphygmomanometer / रक्तदाबमापी
- C. Hydrometer / हाइड्रोमीटर
- D. Thermometer / थर्मामीटर

Answer / उत्तर :- Sphygmomanometer / रक्तदाबमापी

38. First Leader of opposition in Lok Sabha was _____./लोकसभा में विपक्ष के पहले नेता _____ थे।

- A. B. R. Ambedkar /बी आर अंबेडकर
- B. A. K. Gopalan / ए.के. गोपालन
- C. S Radhakrishnan / एस राधाकृष्णन
- D. Vallabhbhai Patel / वल्लभभाई पटेल

Answer / उत्तर :- A. K. Gopalan / ए.के. गोपालन

39. The number of parliamentary seats (Rajya Sabha) of West Bengal is /पश्चिम बंगाल की संसदीय सीटों (राज्य सभा) की संख्या है

- A. 12
- B. 16
- C. 18
- D. 31

Answer / उत्तर :-16

40. Who wrote the book “Five Point Someone: What Not to Do at IIT” ? /“फाइव पॉइंट समवन: व्हाट नॉट टू डू एट आईआईटी” पुस्तक किसने लिखी है?

- A. Jhumpa Lahiri /झुम्पा लाहिड़ी
- B. Amish Tripathi /अमीश त्रिपाठी
- C. Kiran Bedi /किरण बेदिक
- D. Chetan Bhagat / चेतन भगत

Answer / उत्तर :- Chetan Bhagat / चेतन भगत

PART – C

ELEMENTARY MATHEMATICS

प्रारंभिक गणित

41. The sum of the squares of 3 consecutive positive numbers is 365. The sum of the numbers is / 3 क्रमागत धनात्मक संख्याओं के वर्गों का योग 365 है। संख्याओं का योग है

- A. 30
- B. 33
- C. 36
- D. 45

Answer / उत्तर :- 33

42. The units digit of the expression is / व्यंजक का इकाई अंक होगा

$$25^{6251} + 36^{528} + 73^{54}$$

- A. 6
- B. 5
- C. 4
- D. 0

Answer / उत्तर :- 0

43. Simplify / सरल करें :-

$$\frac{\frac{1}{3} + \frac{1}{4} \left[\frac{2}{5} - \frac{1}{2} \right]}{1 \frac{2}{3} \text{ of } \frac{3}{4} - \frac{3}{4} \text{ of } \frac{4}{5}}$$

- A. 37/78
- B. 37/13
- C. 74/78
- D. 74/13

Answer / उत्तर :- 37/78

$$\frac{1}{3-\sqrt{8}} - \frac{1}{\sqrt{8}-\sqrt{7}} + \frac{1}{\sqrt{7}-\sqrt{6}} - \frac{1}{\sqrt{6}-\sqrt{5}} + \frac{1}{\sqrt{5}-2}$$

44. is equal to / के

बराबर है

- A. 5
- B. 3
- C. 1
- D. 0

Answer / उत्तर :- 5

45. A and B can do a piece of work in 8 days, B and C can do it in 24 days, while C and A can do it in 8 4 7 days. In how many days can C do it alone ?

/A और B एक काम को 8 दिनों में कर सकते हैं, B और C 24 दिनों में कर सकते हैं, जबकि C और A 8 4 7 दिनों में कर सकते हैं। C इसे अकेले कितने दिनों में कर सकता है?

- A. 60
- B. 40
- C. 30
- D. 10

Answer / उत्तर :- 60

46 . The LCM of two numbers is 4 times their HCF. The sum of LCM and HCF is 125. If one of the numbers is 100, then the other number is /दो संख्याओं का

LCM उनके HCF का 4 गुना है। एलसीएम और एचसीएफ का योग 125 है। यदि संख्याओं में से एक 100 है, तो दूसरी संख्या है

- A. 5
- B. 25
- C. 100
- D. 125

Answer / उत्तर :- 25

47. If I purchased 11 books for 100 and sold 10 books for 110, the percentage of profit per book sold is /यदि मैंने 100 में 11 पुस्तकें खरीदीं और 110 में 10 पुस्तकें बेचीं, तो बेची गई प्रति पुस्तक लाभ का प्रतिशत है

- A. 10
- B. 11.5
- C. 17.3
- D. 21

Answer / उत्तर :- 21

48. Ratio between the monthly incomes of A and B is 9: 8 and the ratio between their expenditures is 8: 7. If they save 500 each, find A's monthly income. /A और B की मासिक आय का अनुपात 9:8 है और उनके व्यय का अनुपात 8:7 है। यदि वे 500 प्रत्येक की बचत करते हैं, तो A की मासिक आय ज्ञात कीजिए।

- A. 3,500
- B. 4,000
- C. 4,500
- D. 5,000

Answer / उत्तर :- 4,500

49. If $x: y = 3: 4$, then the value of equation / तो समीकरण मान निकले

$$\frac{5x - 2y}{7x + 2y} =$$

- A. 7/25
- B. 7/23
- C. 7/29
- D. 7/17

Answer / उत्तर :- 7/29

50 . A sphere and a cube have equal surface areas. The ratio of the volume of the sphere to that of the cube is /एक गोले और एक घन के पृष्ठीय क्षेत्रफल समान होते हैं। गोले के आयतन का घन के आयतन से अनुपात है

- A. $\sqrt{11} : \sqrt{6}$
- B. $\sqrt{6} : \sqrt{11}$
- C. $\sqrt{2} : \sqrt{11}$
- D. $\sqrt{11} : \sqrt{3}$

Answer / उत्तर :- $\sqrt{6} : \sqrt{11}$

51. The difference between a discount of 35% and two successive discounts of 20% on a certain bill was ₹ 22. The amount of the bill was /एक निश्चित बिल पर 35% की छूट और 20% की दो क्रमिक छूट के बीच का अंतर ₹ 22 था। बिल की राशि थी

- A. ₹200
- B. ₹220
- C. ₹1,100
- D. ₹2,200

Answer / उत्तर :- ₹2,200

52. In measuring the sides of a rectangle, there is an excess of 5% on one side and 2% deficit on the other. Then the error percent in the area is /एक आयत की भुजाओं को मापने में एक ओर 5% अधिक और दूसरी ओर 2% की कमी होती है। तो क्षेत्र में त्रुटि प्रतिशत है

- A. 3.3 %
- B. 3.0 %
- C. 2.9 %
- D. 2.7 %

Answer / उत्तर :- 2.9 %

53. An equilateral triangle and a regular hexagon have the same perimeter. The ratio of the area of the triangle to that of the hexagon is /एक समबाहु त्रिभुज और एक नियमित षट्भुज का परिमाण समान होता है। त्रिभुज के क्षेत्रफल का षट्भुज के क्षेत्रफल से अनुपात है

1. 3:2
2. 2: 3
3. 1:2
4. 1:4

Answer / उत्तर :- 2: 3

54. Walking at the rate of 4 km an hour, a man covers a certain distance in 3 hours 45 minutes. If he covers the same distance on cycle, cycling at the rate of 16.5 km/hour, the time taken by him is /एक व्यक्ति 4 किमी प्रति घंटे की गति से चलकर एक निश्चित दूरी 3 घंटे 45 मिनट में तय करता है। यदि वह साइकिल पर समान दूरी को 16.5 किमी/घंटा की गति से साइकिल से तय करता है, तो उसके द्वारा लिया गया समय है

- A. 55.45 minutes / मिनट
- B. 54.55 minutes / मिनट
- C. 55.44 minutes / मिनट
- D. 45.55 minutes / मिनट

Answer / उत्तर :- 54.55 minutes / मिनट

55. In a certain time, the ratio of a certain principal and the simple interest obtained from it are in the ratio 10: 3 at 10% interest per annum. The number of years the money was invested is /एक निश्चित समय में, एक निश्चित मूलधन और उससे प्राप्त साधारण ब्याज का अनुपात 10: 3 प्रति वर्ष 10% ब्याज पर होता है। वर्षों की संख्या में पैसा निवेश किया गया था

- A. 1
- B. 3
- C. 5
- D. 7

Answer / उत्तर :- 3

56. A cloth merchant sold half of his cloth at 40% profit, half of remaining at 40% loss and the rest was sold at the cost price. In the total transaction his gain or loss will be /एक कपड़ा व्यापारी ने अपने आधे कपड़े को 40% लाभ पर, शेष का आधा 40% हानि पर और शेष को क्रय मूल्य पर बेचा। कुल लेन-देन में उसका लाभ या हानि होगा

- A. 25% loss
- B. 10% gain
- C. 15% loss
- D. 20% gain

Answer / उत्तर :- 10% gain

57. In an examination, 1100 boys and 900 girls appeared. 50% of the boys and 40% of the girls passed the examination. The percentage of candidates who failed /एक परीक्षा में 1100 लड़के और 900 लड़कियां शामिल हुए। 50% लड़कों और 40% लड़कियों ने परीक्षा पास की। असफल होने वाले उम्मीदवारों का प्रतिशत

- A. 45
- B. 45.5
- C. 50
- D. 54.5

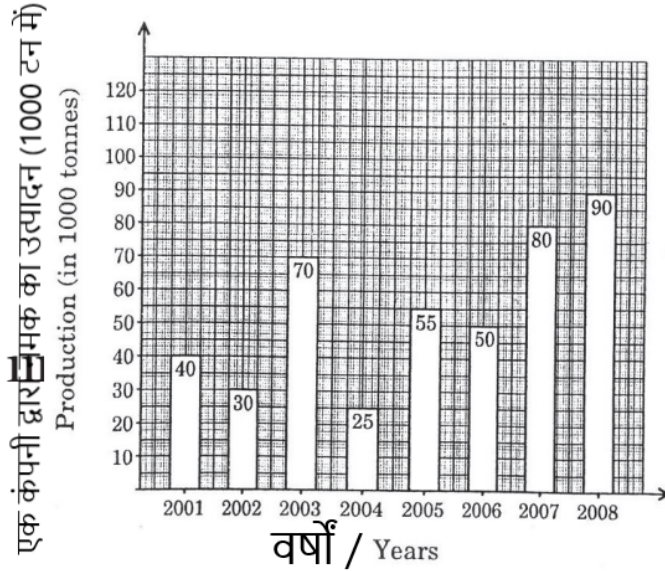
Answer / उत्तर :- 54.5

58. When the price of cloth was reduced by 25%, the quantity of cloth sold increased by 20%. What was the effect on gross receipt of the shop? /जब कपड़े की कीमत में 25% की कमी की गई, तो बेचे गए कपड़े की मात्रा में 20% की वृद्धि हुई। दुकान की सकल प्राप्ति पर क्या प्रभाव पड़ा?

- A. 5% increase
- B. 5% decrease
- C. 10% increase
- D. 10% decrease

Answer / उत्तर :- 10% decrease

Directions /निर्देश (59-60): Study the following graph and answer the questions given below it. Production of salt by a company (in 1000 tonnes) over the years 111 /निम्नलिखित ग्राफ का अध्ययन करें और नीचे दिए गए प्रश्नों के उत्तर दें। एक कंपनी द्वारा नमक का उत्पादन (1000 टन में) वर्षों में 111



59. What was the percentage decline in the production of salt from 2003 to 2004? /2003 से 2004 तक नमक के उत्पादन में प्रतिशत गिरावट क्या थी?

- A. 64.2
- B. 180
- C. 62.4
- D. 107

Answer / उत्तर :- 64.2 %

60. The average production of 2004 and 2005 was exactly equal to the average production of which of the following pairs of years? /2004 और 2005 का औसत उत्पादन निम्नलिखित में से किस वर्ष के औसत उत्पादन के बराबर था?

- A. 2006, 2007
- B. 2005, 2006
- C. 2002, 2006
- D. 2001, 2005

Answer / उत्तर :- 2002, 2006

PART – D (ऐच्छिक)

हिन्दी

इस अनुभाग अनुच्छेद दिए गए हैं , अनुच्छेद के बाद पांच प्रश्न दिए गए हैं अनुच्छेद को ध्यान से पढ़िए और उसके बाद दिए गए प्रश्नों के उत्तर लिखिए प्रत्येक प्रश्न के 4 संभावित उत्तर दिए गए हैं जिन पर **A B C D** क्रमांक अंकित है , उत्तरों में केवल एक ही सही है आपको सही उत्तर का चयन करना है

अनुच्छेद

पत्नी की वियोग से संत तिरुवल्लुवर की कवित्व - शक्ति और अधिक मार्मिक हो गयी जीवन और जगत का व्यापक अनुभव तो उन्हें था ही उन्होंने कुल तेरह सौ तीस “कुरल” रचे , जो तीन भागों में विभक्त है - धर्म , अर्थ और काम । धर्म खंड में ईश्वर-वन्दना , वर्षा का महत्व ,सन्यासी का महत्व एवं धार्मिक भक्ति का वर्णन है । अर्थखंड में शासन, राजा के गुण और कर्म-शिक्षा ,अशिक्षा , शक्ति , समय और स्थान का बोध , विवेक , सुशासन , गुप्त चर मंत्री , सेना मैत्री आदि विषयों का वर्णन है । इन तीनों का निर्वाह करके व्यक्ति जीवन में महानतम लक्ष्य मोक्ष को प्राप्त कर सकता है ।

61. पत्नी के वियोग से तिरुवल्लुवर की कवित्व - शक्ति

- A. कुंठित हो गई
- B. छिन हो गई
- C. और अधिक मार्मिक हो गई
- D. पहले जैसी नहीं रही

उत्तर :- और अधिक मार्मिक हो गई

62. तिरुवल्लुवर को किस का व्यापक अनुभव था

- A. जीवन का
- B. संसार का
- C. साधुओं की संगति का
- D. जीवन और जगत का

उत्तर :- जीवन और जगत का

63. तिरुवल्लुवर के कुरल की रचना कितने भागों में की थी

- A. एक
- B. दो
- C. तीन
- D. चार

उत्तर :- तीन

निर्देश :- निम्नलिखित मुहावरों एवं लोकोक्तियों के सही अर्थ चुनिए

64. आंख खुलना

- A. बहुत क्रोध करना
- B. होश में आना
- C. अत्यंत प्यार करना
- D. उल्टा काम करना

उत्तर :- होश में आना

65. कमर सीधी करना

- A. थकावट दूर करना
- B. काम करना
- C. बुरा भला करना
- D. व्यर्थ परिश्रम करना

उत्तर :- थकावट दूर करना

66. खुदा गंजे को नाखून ना दे

- A. सिद्धांतहीन होना
- B. तुच्छ होना
- C. अनाधिकारी को अधिकार ना मिलना
- D. आपतियों से बचना

उत्तर :- अनाधिकारी को अधिकार ना मिलना

67. साढ़े-साती लगना

- A. खुशी का समय आना
- B. विपत्ति का समय आना
- C. दुखरा रोना
- D. कड़ी मेहनत करना

उत्तर :- विपत्ति का समय आना

निम्नलिखित वाक्य में रंगीन शब्द के लिए उपयुक्त विकल्प का चयन करें

68. समय का **दुरुप्रयोग** किसी भी अवस्था में उचित नहीं कहा जा सकता

- A. दुरुपुयोग
- B. दुरुपयोग
- C. दूरपयोग
- D. दूरप्रयोग

उत्तर :- दुरुपयोग

69. महर्षि **बाल्मीकि** ने रामायण की रचना की

- A. बाल्मीकि
- B. बाल्मीकी
- C. वाल्मीकि
- D. वलमिकी

उत्तर :- वाल्मीकि

70. पराधीनता की **श्रीखंलया** को तोड़ फेंकना देशभक्त का प्रथम कर्तव्य है ।

- A. श्रीखंल
- B. श्रीनखला
- C. श्रृंखला
- D. श्रीनखला

उत्तर :- श्रृंखला

निर्देश :- निम्नलिखित वाक्यों में खाली स्थान को भरने के लिए नीचे चार विकल्प दिए गए हैं उसमें से उपयुक्त विकल्प का चयन कीजिए

71. “ असंभव” शब्द..... के शब्दकोश में मिलता है

- A. हिंदी
- B. ब्रिटानिका
- C. मूर्खों
- D. विद्वान

उत्तर :- मूर्खों

72. ज्योतिष चमत्कार नहीं है , एक है

- A. जाप
- B. विज्ञान
- C. कला
- D. पद्धति

उत्तर :- विज्ञान

73. महादेवी वर्मा को आधुनिक युग की कहा जाता है ।

- A. महान कवयित्री
- B. मीरा
- C. देवदासी
- D. राधा

उत्तर :- मीरा

74. पुराणों में वर्णित कथाओं कोकथाएं कहते हैं ।

- A. अध्यात्मिक
- B. किंवदंती
- C. पौराणिक
- D. दैवी

उत्तर :- पौराणिक

75. तारसप्तकों के सुधार माने जाते हैं ।

- A. सुमित्रानंदन पंत
- B. अज्ञेय
- C. निराला
- D. प्रसाद

उत्तर :- अज्ञेय

76. हिंदी भाषा की लिपि है :-

- A. प्रकृत
- B. देवनागरी
- C. पाली
- D. इनमें से कोई नहीं

उत्तर :- देवनागरी

77. “चराचर” का सही विकल्प है

- A. जड़
- B. चेतन
- C. जड़ एवं चेतन
- D. चलने वाला

उत्तर :- जड़ एवं चेतन

78. “अक्षय” का शाब्दिक अर्थ है

- A. कभी नष्ट ना होने वाला
- B. नष्ट होने वाला
- C. फैलने वाला
- D. इनमें से कोई नहीं

उत्तर :- कभी नष्ट ना होने वाला

79. "समय की दृष्टि से अनुकूल" के लिए सही शब्द का चयन कीजिए :-

- A. अनुकूल
- B. समयानुकूल
- C. प्रतिकूल
- D. इसमें से कोई नहीं

उत्तर :- समयानुकूल

80. "निर्वासित" शब्द में कौन सा प्रत्यय है

- A. इत
- B. सित
- C. इक
- D. इनमें से कोई नहीं

उत्तर :- सित

PART – D
ENGLISH

Directions (61 – 62): In the following questions some of the sentences have errors and some have none. Find out which part of the sentence has an error. The number of that part is your answer. If there is no error, the answer is (D).

61. Last night I dream I was a Sheikh on the 169th floor of Burj Khalifa. No error.

- A. Last night I dream
- B. I was a Sheikh on the 169th floor
- C. of Burj Khalifa.
- D. No error.

Answer : - Last night I dream

62. As soon as the lion saw the deer he began to run after it. No error.

- A. As soon as
- B. the lion saw the deer
- C. he began to run after it.
- D. No error.

Answer : - No error.

Directions (63 – 64): In the following questions sentences are given with blanks to be filled in with an appropriate word(s). Four alternatives are suggested for each question. Choose the correct alternative out of the four.

63. He travelled all _____ the world when he was eighty years old.

- A. in
- B. over
- C. with
- D. of

Answer : - over

64. Dr. Sharma concluded his speech _____ stressing on Buddha's teachings of the importance of charity.

- A. by
- B. with
- C. at
- D. in

Answer : - by

Directions (65 – 66): In the following questions out of the four alternatives, choose the one which best expresses the meaning of the given word.

65. Benevolent

- A. kind
- B. helpful
- C. supportive
- D. beneficial

Answer : - kind

66. Ancestors

- A. extinct tribes
- B. relatives
- C. forefathers
- D. old people

Answer : - forefathers

Directions (67 – 68): In the following questions choose the word opposite in meaning to the given word.

67. Gloomy

- A. radiant
- B. fragrant
- C. melodious
- D. illusory

Answer : - radiant

68. Blessing

- A. dull
- B. curse
- C. hurt
- D. harsh

Answer : - curse

Directions (69 – 71): In the following questions four alternatives are given for the idiom/phrase printed in bold in the sentence. Choose the alternative which best expresses the meaning of the idiom/phrase.

69. Helena was **over head and ears** in love with Demetrius.

- A. carefully
- B. completely
- C. brilliantly
- D. cautiously

Answer : - completely

70. Gopi works **by fits and starts**.

- A. consistently
- B. irregularly
- C. in high spirits
- D. enthusiastically

Answer : - enthusiastically

71. Naresh Goyal had **to stand on his feet** very early in his life.

- A. to be physically strong
- B. to be independent
- C. to stand erect
- D. to be successful

Answer : - to be independent

Directions (72 – 74): In the following questions a part of the sentence is printed in bold. Below are given alternatives to the bold part at (1), (2) and (3) which may improve the sentence. Choose the correct alternative. In case no improvement is needed your answer is (4).

72. The strong breeze blew his hat away.

- A. The strong air
- B. The strong breath
- C. The strong wind
- D. No improvement

Answer : - The strong wind

73. The Japanese are hardly working people.

- A. a hard working people
- B. a hardly working people
- C. hard working people
- D. No improvement

Answer : - hard working people

74. The monkey was seated at the foot of a tree.

- A. bottom
- B. end
- C. root
- D. No improvement

Answer : - root

(75 – 77): In the following questions out of the four alternatives, choose the one which can be substituted for the given words/ sentence.

75. Instrument to measure atmospheric pressure

- A. metronome
- B. compass
- C. pedometer
- D. barometer

Answer : - barometer

76. One who tends to take a hopeful view of life

- A. magnate
- B. Creator
- C. pacifist
- D. optimist

Answer : - optimist

77. Belonging to all parts of the world

- A. common
- B. universal
- C. worldly
- D. international

Answer : - universal

Directions (78 – 80): In the following questions groups of four words are given. In each group, one word is correctly spelt. Find the correctly spelt word.

78.

- A. character
- B. charecter
- C. charactar
- D. chaerector

Answer : - character

79.

- A. drunkeness
- B. drunkenness
- C. durnkness
- D. drunkennes

Answer : - drunkenness

80.

- A. surprise
- B. supprise
- C. suprise
- D. surprize

Answer : - surprise